


กิจกรรมการเรียนรู้ที่ 1 : อุบัติเหตุและเหตุฉุกเฉิน



ถ้าพบว่าผู้เข้าแข่งขันคนหนึ่งของเราประสบอุบัติเหตุรถชนและได้รับบาดเจ็บ หากคุณอยู่ตรงบริเวณที่เกิดอุบัติเหตุขึ้น คุณจะช่วยนำส่งผู้ได้รับบาดเจ็บไปยังโรงพยาบาลให้เร็วที่สุดเท่าที่จะทำได้อย่างไร? จากแผนที่ข้างต้นแสดงให้เห็นถึงเส้นทางในการแข่งขัน ตำแหน่งของจุดเกิดอุบัติเหตุและโรงพยาบาล

1. ระดมพลังสมองในกลุ่มของคุณและระบุแนวความคิดต่าง ๆ ลงในที่ว่างด้านล่างนี้




การแข่งขันรถแข่งบนถนนที่ทางไกลเชียงใหม่ 4 : การวางแผนการฉุกเฉิน

2. ในกลุ่มช่วยกันคัดเลือกแนวความคิดที่ดีที่สุดและวางแผน โดยอย่าลืมพิจารณาหัวข้อเหล่านี้
- คุณจะเลือกโรงพยาบาลใด?
 - โรงพยาบาลอยู่ไกลจากจุดเกิดเหตุเท่าไร และอยู่ทิศทางใด?
 - ยานพาหนะใดที่คุณเสนอให้นำมารับผู้ได้รับบาดเจ็บ เพื่อให้ผู้บาดเจ็บได้รับการดูแลอย่างทันท่วงที?
 - คุณจะให้ข้อมูลอะไรแก่โรงพยาบาล เพื่อให้สามารถมาถึงจุดเกิดเหตุโดยเร็วที่สุดเท่าที่จะทำได้ โดยไม่หลงทาง? และเหตุผล?




การแจ้งขบวนรถขนส่งทางไกลเชียงใหม่ 4 : แผนขบวนรถฉุกเฉิน





กิจกรรมการเรียนรู้ที่ 2 : เวกเตอร์หรือสเกลาร์ ?

ดูรูปภาพด้านล่างนี้แล้วอธิบายแต่ละภาพว่าเป็นเครื่องมืออะไร ใช้วัดอะไร จากนั้นขีดเส้นใต้เพื่อนั้นว่าเป็นเวกเตอร์หรือสเกลาร์ พร้อมให้เหตุผลประกอบ



เครื่องมือนี้ใช้วัด
จัดเป็นปริมาณเวกเตอร์ หรือ สเกลาร์
เพราะ.....
.....





เครื่องมือนี้ใช้วัด
จัดเป็นปริมาณเวกเตอร์ หรือ สเกลาร์
เพราะ.....
.....




เครื่องมือนี้ใช้วัด
จัดเป็นปริมาณเวกเตอร์ หรือ สเกลาร์
เพราะ.....
.....

เครื่องมือนี้ใช้วัด
จัดเป็นปริมาณเวกเตอร์ หรือ สเกลาร์
เพราะ.....
.....

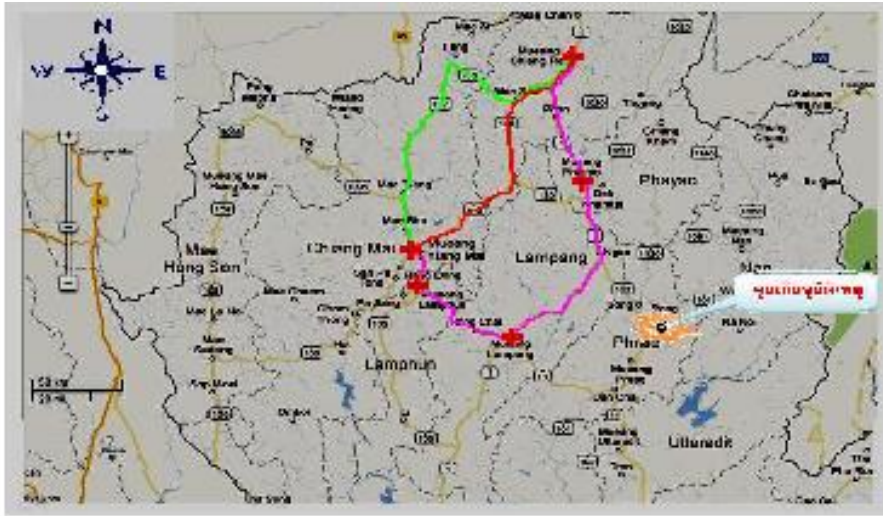


เครื่องมือนี้ใช้วัด
จัดเป็นปริมาณเวกเตอร์ หรือ สเกลาร์
เพราะ.....
.....

การแข่งขันขบถยนต์ทางไกลเชียงใหม่ 4 : การวางแผนการณั้ฉุกเฉิน



กิจกรรมการเรียนรู้ที่ 3 : หลงทางและตกอยู่ในอันตราย!



คุณมีวิทยุสื่อสารอยู่ในรถยนต์คันหนึ่งซึ่งมีการแจ้งเหตุว่า เกิดอุบัติเหตุรถชนและมีผู้ขับขี่รถยนต์ได้รับบาดเจ็บสาหัส โดยผู้ขับขี่นั้นขับรถยนต์ออกไปไกลนอกเส้นทางการแข่งขัน แต่ผู้ที่แจ้งเหตุกับคุณนั้นสามารถบอกคุณได้ว่ารถคันนั้นเพิ่งผ่านจังหวัดแพร่ คุณควรจะส่งใครไปที่จุดเกิดเหตุ? และคุณจะบอกทิศทางไหน? จงเขียนอธิบายให้ชัดเจนว่าคุณจะอย่างไร ในที่ว่างด้านล่างนี้

การแบ่งชั้นขบวนรถบนเส้นทางไกลเชียงใหม่ 4 : การวางแผนรถฉุกเฉิน

